



Klima Kompetenz Camps für Zukunftsberufe

Thema: Der Kostencheck:
Carsharing-Anbieter im Vergleich







Der Kostencheck: Carsharing-Anbieter im Vergleich (2 Anbieter)

Lernsituation

Die Geschirrspülmaschine in ihrer Wohngemeinschaft ist leider kaputt. Sie haben ein tolles Angebot für eine gebrauchte Spülmaschine über ein Second-Hand-Portal gefunden. Sie möchten nun die Spülmaschine mit einem Carsharing-Fahrzeug in ihre Wohngemeinschaft transportieren. Ihre Mitbewohnerin ist noch nie Elektroauto gefahren und möchte daher ausschließlich Anbieter mit Elektroautos in Betracht ziehen.

Entscheiden Sie spontan:

Welchen Carsharing-Anbieter wählen Sie hierfür? Kreuzen Sie an!

| | | | |
|--|---|---|--|
|  Flinkster |  |  |  |
| <input type="checkbox"/> | <input type="checkbox"/> | <input type="checkbox"/> | <input type="checkbox"/> |

Begründen Sie kurz Ihre Entscheidung.

Ihre Mitbewohnerin hat bereits die möglichen Basiskonditionen von zwei verschiedenen Anbietern recherchiert:

| Carsharing-Anbieter | Startguthaben | Kosten pro Minute Fahrt | Fahrzeug |
|---------------------|---------------|-------------------------|--------------|
| Sixt | Keine | 0,09 Euro/Minute | Hyundai i 10 |
| Miles | 9 Euro | 0,33 Euro/Minute | VW ID.3 |

1. **Notieren** Sie in Einzelarbeit eine Lösungsidee, um den günstigsten Carsharing-Anbieter zu ermitteln.

Hinweis: Es soll noch keine Rechnung erfolgen!

2. **Tauschen** Sie sich nun innerhalb Ihrer Gruppe über Ihre Lösungsideen **aus** und **entscheiden** Sie gemeinsam, welche Lösungswege Sie verfolgen möchten. **Notieren** Sie diese stichpunktartig auf den unteren Zeilen.

3. **Teilen** Sie die Bearbeitung der Lösungswege untereinander **auf**. **Achten** Sie hierbei darauf, dass jedes Gruppenmitglied einen Beitrag zur Lösungsfindung leistet!
4. **Dokumentieren** Sie Ihren Anteil zur Lösungsfindung, indem Sie Ihre Berechnungen ins untere Kästchen schreiben.

Hinweis: Falls Sie sich für einen graphischen Lösungsweg entschieden haben, nutzen Sie zur Darstellung bitte ein Koordinatensystem (x: Fahrtzeit in Minuten, y: Fahrtkosten in Euro)!

5. **Tauschen** Sie sich über Teillösungen **aus** und **begründen** Sie auf dieser Grundlage, welcher Carsharing-Anbieter der günstigste ist. Welchen Anbieter wählen Sie für den Transport der Spülmaschine?

Lösungshilfe

| | Grundgebühr | Minutenpreis | Fahrzeit in min | Preis Hinfahrt |
|-----------|-------------|--------------|-----------------|----------------|
| we share | 1 | 0,25 | 30 | 8,5 |
| sixt | 0 | 0,09 | 30 | 2,7 |
| miles | -9 | 0,33 | 30 | 0,9 |
| flinkster | 0 | 0,2 | 30 | 6 |

| Fahrzeit (min) | 0 | 30 | 60 | 90 | 120 | 150 |
|----------------|----|-----|------|------|------|------|
| we share | 1 | 8,5 | 16 | 23,5 | 31 | 38,5 |
| sixt | 0 | 2,7 | 5,4 | 8,1 | 10,8 | 13,5 |
| miles | -9 | 0,9 | 10,8 | 20,7 | 30,6 | 40,5 |
| flinkster | 0 | 6 | 12 | 18 | 24 | 30 |



Arbeits- / Lernmaterial 'Der Kostencheck: Carsharing-Anbieter im Vergleich' von [KlimaKompetenz-Camps](#), lizenziert unter [CC-BY-SA \(4.0\)](#) - sofern nicht anders angegeben. Dargestellte Logos unterliegen dem Markenrecht und bleiben weiterhin geschützt und dürfen nicht verändert werden.





Der Kostencheck: Carsharing-Anbieter im Vergleich (3 Anbieter)

Lernsituation

Die Geschirrspülmaschine in ihrer Wohngemeinschaft ist leider kaputt. Sie haben ein tolles Angebot für eine gebrauchte Spülmaschine über ein Second-Hand-Portal gefunden. Sie möchten nun die Spülmaschine mit einem Carsharing-Fahrzeug in ihre Wohngemeinschaft transportieren. Ihre Mitbewohnerin ist noch nie Elektroauto gefahren und möchte daher ausschließlich Anbieter mit Elektroautos in Betracht ziehen.

Entscheiden Sie spontan:

Welchen Carsharing-Anbieter wählen Sie hierfür? Kreuzen Sie an!

| | | | |
|--|---|---|--|
|  Flinkster |  |  |  |
| <input type="checkbox"/> | <input type="checkbox"/> | <input type="checkbox"/> | <input type="checkbox"/> |

Begründen Sie kurz Ihre Entscheidung.

Ihre Mitbewohnerin hat bereits die möglichen Basiskonditionen von drei verschiedenen Anbietern recherchiert:

| Carsharing-Anbieter | Anmeldegebühr | Kosten pro Min. Fahrt | Fahrzeug |
|---------------------|---------------|-----------------------|-------------|
| Flinkster | Keine | 0,20 Euro/Minute | Renault Zoe |
| We share | 1 Euro | 0,25 Euro/Minute | VW ID.3 |
| Miles | 9 Euro | 0,33 Euro/Minute | VW ID.3 |

1. **Notieren** Sie in Einzelarbeit eine Lösungsidee, um den günstigsten Carsharing-Anbieter zu ermitteln.

Hinweis: Es soll noch keine Rechnung erfolgen!

2. **Tauschen** Sie sich nun innerhalb Ihrer Gruppe über Ihre Lösungsideen **aus** und **entscheiden** Sie gemeinsam, welche Lösungswege Sie verfolgen möchten. **Notieren** Sie diese stichpunktartig auf den unteren Zeilen.

3. **Teilen** Sie die Bearbeitung der Lösungswege untereinander **auf**. **Achten** Sie hierbei darauf, dass jedes Gruppenmitglied einen Beitrag zur Lösungsfindung leistet!
4. **Dokumentieren** Sie Ihren Anteil zur Lösungsfindung, indem Sie Ihre Berechnungen ins untere Kästchen schreiben.

Hinweis: Falls Sie sich für einen graphischen Lösungsweg entschieden haben, nutzen Sie zur Darstellung bitte ein Koordinatensystem (x: Fahrtzeit in Minuten, y: Fahrtkosten in Euro)!

5. **Tauschen** Sie sich über Teillösungen **aus** und **begründen** Sie auf dieser Grundlage, welcher Carsharing-Anbieter der günstigste ist. Welchen Anbieter wählen Sie für den Transport der Spülmaschine?

Lösungshilfe

| | Grundgebühr | Minutenpreis | Fahrzeit in min | Preis Hinfahrt |
|-----------|-------------|--------------|-----------------|----------------|
| we share | 1 | 0,25 | 30 | 8,5 |
| sixt | 0 | 0,09 | 30 | 2,7 |
| miles | -9 | 0,33 | 30 | 0,9 |
| flinkster | 0 | 0,2 | 30 | 6 |

| Fahrzeit (min) | 0 | 30 | 60 | 90 | 120 | 150 |
|----------------|----|-----|------|------|------|------|
| we share | 1 | 8,5 | 16 | 23,5 | 31 | 38,5 |
| sixt | 0 | 2,7 | 5,4 | 8,1 | 10,8 | 13,5 |
| miles | -9 | 0,9 | 10,8 | 20,7 | 30,6 | 40,5 |
| flinkster | 0 | 6 | 12 | 18 | 24 | 30 |



Arbeits- / Lernmaterial 'Der Kostencheck: Carsharing-Anbieter im Vergleich' von [KlimaKompetenz-Camps](#), lizenziert unter [CC-BY-SA \(4.0\)](#) - sofern nicht anders angegeben. Dargestellte Logos unterliegen dem Markenrecht und bleiben weiterhin geschützt und dürfen nicht verändert werden.